

סוג הבחינה: א. בגרות לבתי ספר על-יסודיים
ב. בגרות לנבחנים אקסטרניים
מועד הבחינה: תשע"ב, מועד ב
מספר השאלון: 315, 035805
נספח: דפי נוסחאות ל-4 יחידות לימוד

מתמטיקה

4 יחידות לימוד – שאלון שני

הוראות לנבחן

- א. משך הבחינה: שעה ושלושה רבעים.
- ב. מבנה השאלון ומפתח ההערכה: בשאלון זה ארבע שאלות בנושאים: סדרות, גדילה ודעיכה, אלגברה וחשבון דיפרנציאלי ואינטגרלי של פונקציות מעריכיות ולוגריתמיות, טריגונומטריה במרחב. עליך לענות על שלוש שאלות – $3 \times 33 \frac{1}{3} = 100$ נקודות
- ג. חומר עזר מותר בשימוש:
- (1) מחשבון לא גרפי. אין להשתמש באפשרויות התכנות במחשבון הניתן לתכנות. שימוש במחשבון גרפי או באפשרויות התכנות במחשבון עלול לגרום לפסילת הבחינה.
 - (2) דפי נוסחאות (מצורפים).
- ד. הוראות מיוחדות:
- (1) אל תעתיק את השאלה; סמן את מספרה בלבד.
 - (2) התחל כל שאלה בעמוד חדש. רשום במחברת את שלבי הפתרון, גם כאשר החישובים מתבצעים בעזרת מחשבון. הסבר את כל פעולותיך, כולל חישובים, בפירוט ובצורה ברורה ומסודרת. חוסר פירוט עלול לגרום לפגיעה בציון או לפסילת הבחינה.
 - (3) לטייטה יש להשתמש במחברת הבחינה או בדפים שקיבלת מהמשגיחים. שימוש בטייטה אחרת עלול לגרום לפסילת הבחינה.

ההנחיות בשאלון זה מנוסחות בלשון זכר ומכוונות לנבחנות ולנבחנים כאחד.

ב ה צ ל ח ה !

ה ש א ל ו ת

שים לב! הסבר את כל פעולותיך, כולל חישובים, בפירוט ובצורה ברורה.

חוסר פירוט עלול לגרום לפגיעה בציון או לפסילת הבחינה.

ענה על שלוש מהשאלות 1-4 (לכל שאלה – $33\frac{1}{3}$ נקודות).

שים לב! אם תענה על יותר משלוש שאלות, ייבדקו רק שלוש התשובות הראשונות שבמחברתך.

סדרות

1. כמות של 1000 גרם חומר רדיואקטיבי קטנה בצורה מעריכית.

כעבור מספר שנים נותרו 250 גרם מהחומר.

כעבור עוד 4 שנים נותרו 200 גרם מהחומר.

מצא כעבור כמה שנים נותרו 250 גרם מהחומר הרדיואקטיבי.

אלגברה וחשבון דיפרנציאלי ואינטגרלי של פונקציות מעריכיות ולוגריתמיות

2. נתונה הפונקציה $f(x) = \frac{1}{2}e^{2x} - e^x - 2x$.

העבירו ישר המשיק לגרף הפונקציה

בנקודה שבה $x = 0$,

והעבירו אנך לציר ה- x דרך נקודת המינימום

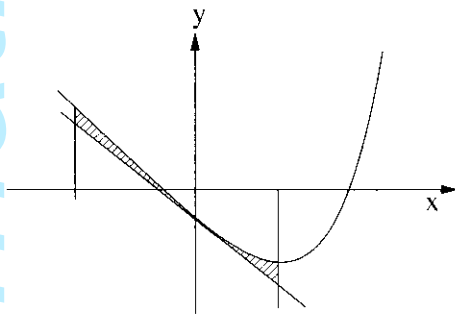
של הפונקציה (ראה ציור).

א. מצא את משוואת המשיק.

ב. מצא את משוואת האנך.

ג. מצא את השטח המוגבל על ידי גרף הפונקציה, על ידי המשיק, על ידי האנך

ועל ידי הישר $x = -1$ (השטח המקווקו בציור).



3. נתונה הפונקציה $f(x) = \frac{a \ln x}{x^2}$. a הוא פרמטר שונה מאפס.

א. מצא את תחום ההגדרה של הפונקציה.

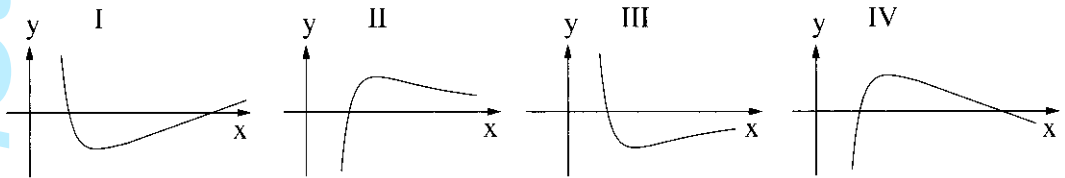
ב. שיפוע הישר, המשיק לגרף הפונקציה בנקודה שבה $f(x) = 0$, הוא 3.

מצא את הערך של a .

הצב $a = 3$, וענה על הסעיפים ג-ה.

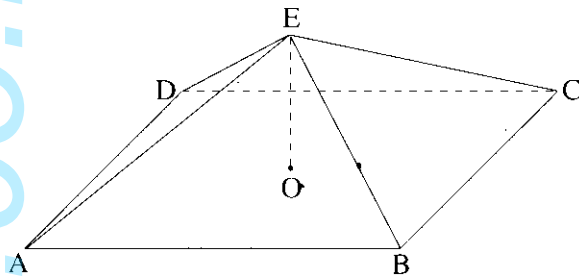
ג. מצא את השיעורים של נקודת הקיצון של הפונקציה, וקבע את סוגה.

ד. לפניך הגרפים I, II, III, IV. איזה גרף הוא של הפונקציה $f(x)$? נמק.



ה. האם יש פתרון למשוואה $1 = \frac{3 \ln x}{x^2}$? נמק.

טריגונומטריה במרחב



4. נתונה פירמידה ישרה EABCD

שבסיסה ABCD הוא מלבן

(ראה ציור).

הזווית בין מקצוע צדדי של הפירמידה

לבסיס היא 30° .

הזווית AOB בין אלכסוני הבסיס היא 120° .

גובה הפירמידה הוא 10 ס"מ.

א. חשב את אורך המקצוע BC.

ב. חשב את הזווית בין הגובה ל-BC בפאה EBC ובין בסיס הפירמידה.

בהצלחה!

זכות היוצרים שמורה למדינת ישראל
אין להעתיק או לפרסם אלא ברשות משרד החינוך