



מבחן במתמטיקה – לבוגרי כיתה ב' מוכנות לכיתה ג'

1. נתון המספר 315.

א. כתבו במלים את המספר הנתון.

ב. כתבו בספרות את המספר העוקב למספר הנתון.

ג. כתבו בספרות את המספר הקודם למספר הנתון.

ד. כתבו בספרות את המספר הגדול ב-10 מן המספר הנתון.

ה. כתבו בספרות את המספר שמונה מאות ושבע.

2. הוסיפו על כל קו ספרה אחת מתאימה.

א. $3 \underline{\quad} 2 < 342$

ב. $3 \underline{\quad} 2 > 342$

ג. $2 \underline{\quad} 6 < 2 \underline{\quad} 5$

ד. $34 \underline{\quad} > 34 \underline{\quad}$

3. א. השלימו מאות, עשרות ויחידות.

$$847 = \boxed{\quad} + \boxed{\quad} + \boxed{\quad}$$

ב. מהי ספרת העשרות במספר 634?



4. פתרו את התרגילים בכל דרך שנוחה לכם.

א. $4 + 91 = \underline{\quad}$ ד. $57 - 44 = \underline{\quad}$

ב. $34 + 29 = \underline{\quad}$ ה. $36 - 19 = \underline{\quad}$

ג. $50 + 30 = \underline{\quad}$ ו. $90 - 30 = \underline{\quad}$

5. פתרו.

שירה אוהבת לקפץ בֶּחָבֵל. ביום ראשון קפצה שירה 63 קפיצות.

כמה קפיצות היא צריכה לקפץ ביום שני כדי שבשני הימים תגיע בסך הכל למאה

קפיצות?

תרגיל:

תשובה:

6. השלימו את הסדרות .

א. 56, 66, 76, _____, _____, _____, _____

ב. 651, 551, 451, _____, _____, _____, _____

7. פתרו.

לאורי אלבום ובו מקום ל- 96 מדבקות.

חסרות לו 15 מדבקות כדי למלא את האלבום.

כמה מדבקות הדביק אורי באלבום?

תרגיל:

תשובה:



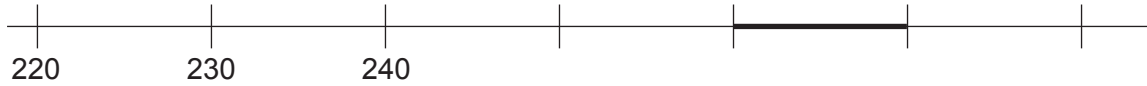
8. מי מהמספרים הבאים נמצא על הקטע המדגש בישר המספרים?

ד. 274

ג. 269

ב. 271

א. 262



9. השלימו.

ד. $\underline{\quad} - 23 = 72$

א. $13 + \underline{\quad} = 85$

ה. $46 - \underline{\quad} = 16$

ב. $30 + 24 = \underline{\quad} + 14$

ו. $50 - \underline{\quad} = 49 - \underline{\quad}$

ג. $32 + \underline{\quad} = 33 + \underline{\quad}$

10. לפניכם שורה מלוח הכפל. השלימו אותה.

3	6	9							
---	---	---	--	--	--	--	--	--	--

11. פתרו.

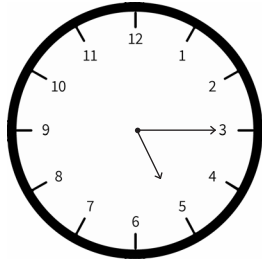
תמר קנתה 7 חבילות של ספריות. בכל חבילה יש 4 ספריות.

בכיתה של תמר יש 30 בנות.

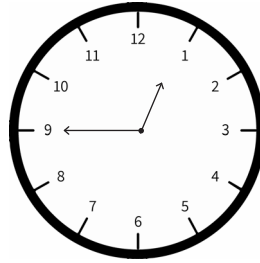
האם יספיקו הספריות שקנתה תמר לכל בנות הכיתה?

תרגיל:

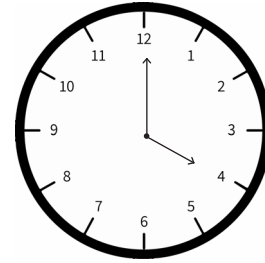
תשובה:

**12. כתבו את השעה מתחת לכל שעון.**

_____ ג.



_____ ב.



_____ א.

13. פתרו.

יונתן יצא מהבית בשעה 7:15 בערב ואמר לאמו שיחזור בעוד שעותים.
באיזו שעה מתכוון יונתן לחזור הביתה?

ד. 11:00

ג. 9:00

ב. 9:15

א. 9:30

14. מי מהתרגילים הבאים מתאים לתרגיל הכפל 6×4 ?

ג. $4 + 4 + 4 + 4 + 4 + 4$

א. $4 + 4 + 4 + 4$

ד. $6 + 4 + 6 + 4$

ב. $6 + 6 + 6 + 6$

15. השלימו תרגילי חלוק מתאימים לתרגיל הכפל $6 \times 7 = 42$.

א. _____ : _____ = _____

ב. _____ : _____ = _____

**16. פתרו את התרגילים.**

ג. $5 \times 9 = \underline{\hspace{2cm}}$

ב. $10 \times 7 = \underline{\hspace{2cm}}$

א. $8 \times 4 = \underline{\hspace{2cm}}$

ו. $36 : 4 = \underline{\hspace{2cm}}$

ה. $30 : 3 = \underline{\hspace{2cm}}$

ד. $40 : 5 = \underline{\hspace{2cm}}$

17. פתרו את התרגילים.

ב. $(4 + 2) \times 5 = \underline{\hspace{2cm}}$

א. $4 + 2 \times 5 = \underline{\hspace{2cm}}$

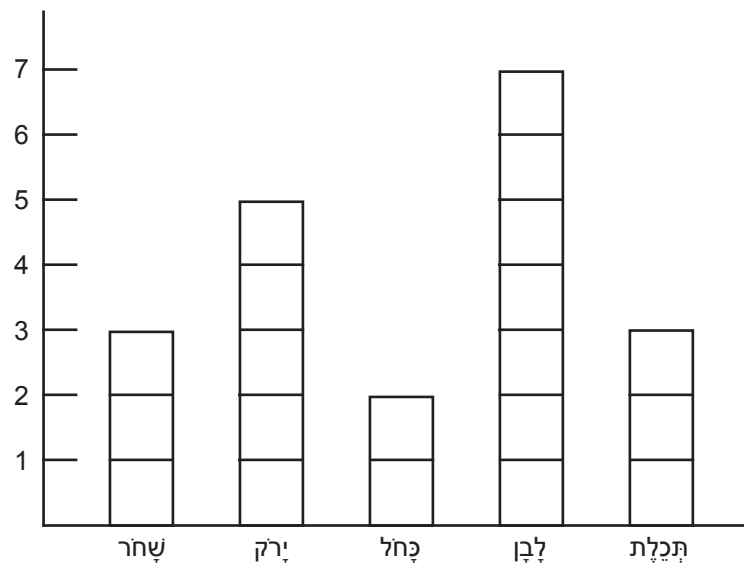
18. פתרו.

בכתה ג' בדקו את צבע החלצה שלבשו הילדים ביום ששי ואת התשובות כתבו
בדיאגרמה. השיבו על השאלות הבאות.

א. כמה תלמידים לבשו חלצה כחלה? _____

ב. מה היה צבע החלצה אותו לבשו הכי הרבה ילדים? _____

ג. מה היו הצבעים אותם לבשו אותו מספר של ילדים? _____



**19. השלימו.**

א. $8 \times \underline{\hspace{2cm}} = 24$
ב. $6 \times \underline{\hspace{2cm}} = 36$
ג. $4 \times \underline{\hspace{2cm}} = 8 \times \underline{\hspace{2cm}}$
ד. $\underline{\hspace{2cm}} \times 6 = \underline{\hspace{2cm}} \times 3$

20. סמנו במשבצת הריקה > , < , =.

א. $1 + 1 + 1 + 1$ 4×1
ב. $0 + 0 + 0$ 3×0
ג. $0 + 5$ 0×5
ד. 10×0 $10 - 0$

21. השלימו את שם הגוף המתאים מתוך מאגר המילים שלמטה.

- א. לקפסת נעלים צורה של _____
ב. לכוּבֵע של ליצן צורה של _____
ג. לקנשית שתיה צורה של _____
ד. לאבני המשחק 'חמש אבנים' צורה של _____
ה. לאהל צורה של _____

קבֵיה, תבֵה, גליל, חרוט, פִרְמִידָה



22. על המשבצות שלמטה מצירת צורה.

א. כמה יחידות ארך יש בהקף של הצורה? בחרו את התשובה המתאימה.

20 (4)

19 (3)

13 (2)

21 (1)

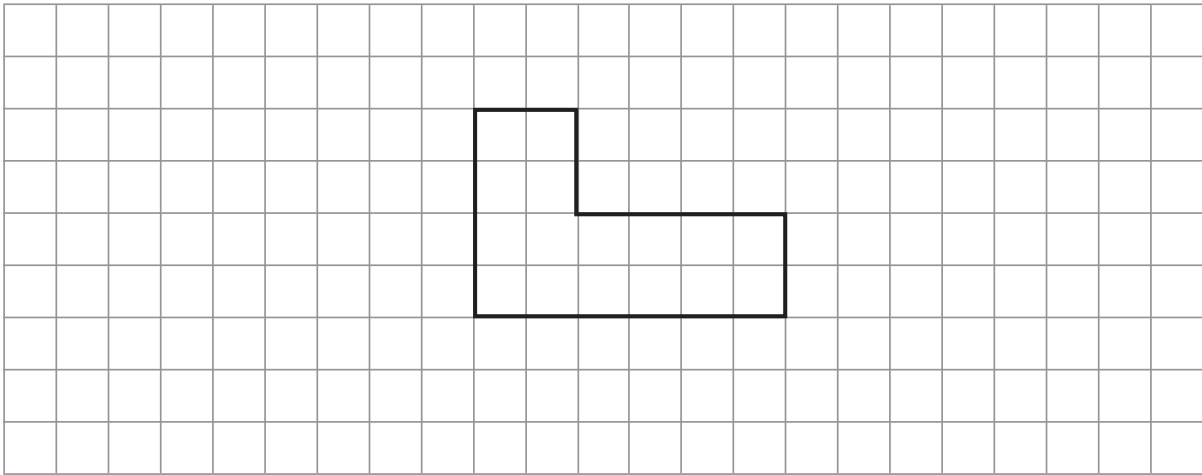
ב. כמה יחידות שטח יש בצורה? בחרו את התשובה המתאימה.

15 (4)

14 (3)

16 (2)

20 (1)



עבדו מקסים!

כל הכבוד על ההשקעה ועל המאמץ!



תשובות למבחן במתמטיקה – לבוגרי כיתה ב' מוכנות לכיתה ג'

1. א. שלש מאות וחמש עשרה. ב. 316 ג. 314 ד. 325 ה. 807

2. א. אפשר להוסיף 0 או 1 או 2 או 3.

ב. אפשר להוסיף 5 או 6 או 7 או 8 או 9.

ג. יש מספר אפשרויות לתשובה נכונה, המשתף לכלן: הספרה שמוסיפים

בצד הגדול, גדולה מן הספרה שמוסיפים בצד הקטן.

ד. יש מספר אפשרויות לתשובה נכונה, המשתף לכלן: הספרה שמוסיפים

בצד הגדול, גדולה מן הספרה שמוסיפים בצד הקטן.

3. א. $800 + 40 + 7$ ב. 3

4. א. 95 ב. 63 ג. 80 ד. 13 ה. 17 ו. 60

5. שירה צריכה לקפץ עוד 37 קפיצות.

6. א. 56, 66, 76, 86, 96, 106, 116

ב. 651, 551, 451, 351, 251, 151, 51

7. אורי הדביק 81 מדבקות.

8. א, ג.

9. א. 72 ב. 40

ג. יש הרבה אפשרויות לתשובה הנכונה. המשתף לכלן: המספר שנוסיף

בצד של ה-32 גדול באחד מהמספר שנוסיף בצד של ה-33.

ד. 95 ה. 30

ו. יש הרבה אפשרויות לתשובה הנכונה. המשתף לכלן: המספר שנוסיף

בצד של ה-50 גדול באחד מהמספר שנוסיף בצד של ה-49.



.10

3	6	9	12	15	18	21	24	27	30
---	---	---	----	----	----	----	----	----	----

11. תמר קנתה 28 ספריות ולכן הן לא יספיקו לכל בנות כיתה.

12. א. 4:00 ב. 12:45 ג. 5:15

13. ב.

14. א, ב, ג.

15. א. $42 : 7 = 6$ ב. $42 : 6 = 7$

16. א. 32 ב. 70 ג. 45 ד. 8 ה. 10 ו. 9

17. א. 14 ב. 30

18. א. 2 ב. לבן ג. תכלת ושחר.

19. א. 3 ב. 6

ג. ישנן אפשרויות רבות לתשובה נכונה, למשל: $4 \times 4 = 8 \times 2$.

ד. ישנן אפשרויות רבות לתשובה נכונה, למשל: $2 \times 6 = 4 \times 3$.

20. א. = ב. = ג. > ד. <

21. א. תבה ב. חרוט ג. גליל ד. קביה ה. פירמידה

22. א. (4) ב. (2)